

Събиране и изваждане на двуцифрени числа

Пресметни и оцвети:

* сборовете, които са между 60 и 90 – с червено;


* разликите, които са между 5 и 15 – със зелено.


$$\begin{array}{r}
 27 \\
 + 13 \\
 \hline
 \end{array}
 \quad
 \begin{array}{r}
 46 \\
 + 25 \\
 \hline
 \end{array}
 \quad
 \begin{array}{r}
 37 \\
 + 54 \\
 \hline
 \end{array}
 \quad
 \begin{array}{r}
 64 \\
 + 29 \\
 \hline
 \end{array}
 \quad
 \begin{array}{r}
 16 \\
 + 48 \\
 \hline
 \end{array}
 \quad
 \begin{array}{r}
 59 \\
 + 30 \\
 \hline
 \end{array}
 \quad
 \begin{array}{r}
 69 \\
 + 23 \\
 \hline
 \end{array}
 \quad
 \begin{array}{r}
 48 \\
 + 25 \\
 \hline
 \end{array}
 \quad
 \begin{array}{r}
 17 \\
 + 45 \\
 \hline
 \end{array}$$

$$\begin{array}{r}
 55 \\
 - 13 \\
 \hline
 \end{array}
 \quad
 \begin{array}{r}
 92 \\
 - 25 \\
 \hline
 \end{array}
 \quad
 \begin{array}{r}
 63 \\
 - 54 \\
 \hline
 \end{array}
 \quad
 \begin{array}{r}
 83 \\
 - 29 \\
 \hline
 \end{array}
 \quad
 \begin{array}{r}
 66 \\
 - 48 \\
 \hline
 \end{array}
 \quad
 \begin{array}{r}
 63 \\
 - 30 \\
 \hline
 \end{array}
 \quad
 \begin{array}{r}
 48 \\
 - 23 \\
 \hline
 \end{array}
 \quad
 \begin{array}{r}
 36 \\
 - 25 \\
 \hline
 \end{array}
 \quad
 \begin{array}{r}
 70 \\
 - 45 \\
 \hline
 \end{array}$$

Аз возя 39 момчета, които са с 13 повече от момичетата. Колко са момичетата? Колко са всичките деца?

.....





**Аз имам общо 100 страници. Първия ден Мила прочете 24 страници, а втория – 28 страници. Колко страници прочете Мила?
А колко страници ѝ остават?**

.....
.....
.....
.....

Намиране на неизвестно събираемо**Кое число е скрито под звездичката?**

$13 + \star = 70$

$19 + \star = 34$

$17 + \star = 54$

$18 + \star = 24 + 32$

$29 + \star = 62 - 17$

$25 + \star = 100 - 43$

$(46 - 7) + \star = 83 - 8$

$(21 - \star) + 56 = 99$

$100 - \star = 60 - 12$


Попълни квадратите така, че да станат логически.

| | | |
|---|----|----|
| 7 | 17 | |
| | 9 | |
| | | 11 |

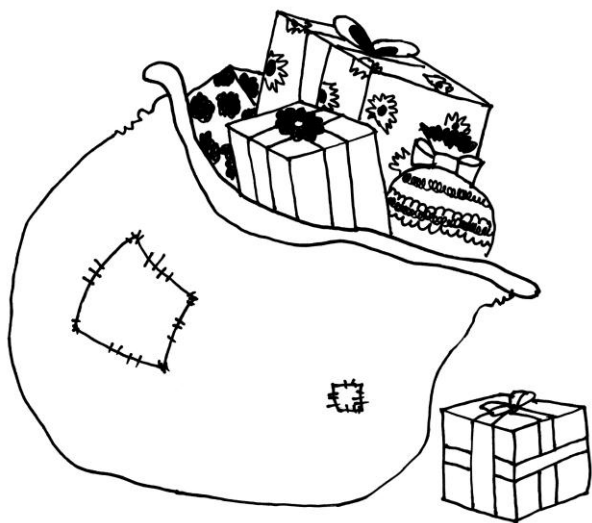
| | | |
|----|----|----|
| | | 4 |
| 10 | 12 | 14 |
| | | |

Това го знаем

Пресметни.



Помогни на Дядо Коледа да пресметне.




Дядо Коледа раздал първия ден 35 играчки, които са с 16 повече от играчките, които раздал през втория ден. На третия ден му останали още 27 играчки. Колко играчки всичко е трябвало да раздаде Дядо Коледа?

.....

.....

.....

Запознай се с Васко и открий кое число си е намислил той?



Намислих си едно число.
 Прибавих към него 36
 и получих разликата на
 числата 94 и 29.
 Кое число съм си намислил?

.....

.....

Дядото на Петьо има правоъгълен двор и иска да го огради с мрежа. Колко метра мрежа трябва да си купи, ако дворът е дълъг 26 м, а широчината му е с 9 м по-малка?

.....

.....

.....

.....

.....

.....

.....

.....

.....

Намери обиколката на триъгълник със страни 37 см, 29 см и 13 см. Използвай съдружителното свойство на сбора.

.....

.....

.....

.....

.....

.....

.....

.....

.....